



وزارة التربية

الإدارة العامة لمنطقة مبارك الكبير التعليمية

**إدارة الشؤون التعليمية
مراقبة الامتحانات وشؤون الطلبة**

نموذج الإجابة

الفترة الدراسية الثانية

المادة : الإجتماعيات

الصف : التاسع

العام الدراسي

2016 / 2015



وزارة التربية

العام الدراسي 2015 – 2016م




عدد الأوراق : 7 أوراق

الإدارة العامة لمنطقة مبارك الكبير التعليمية

منطقة مبارك الكبير التعليمية
التوجيه الفني للاجتماعيات الزمن : ساعة و 45 دقيقة

التوجيه الفني للاجتماعيات

اختبار نهاية الفترة الدراسية الثانية



لصف التاسع

السؤال الأول موضوعي : يتكون من (أ - ب - ج - د - هـ - و) :



(أ) أكمل العبارات التالية بما يناسبها :

1- المجرة التي ينتمي إليها كوكب الأرض تسمى درب التبانة ص 17

2- المرحلة الأولى لعلاقة الإنسان مع البيئة على مر العصور تسمى الجمع ص 55

3- الموارد الطبيعية التي يخشى عليها من النفاذ تسمى غير متجددة ص 67

4- التفاعل المستمر بين مكونات البيئة الذي يحفظ للبيئة حالة من الاستقرار النسبي في زمن محدد يطلق عليه اسم التوازن البيئي ص 58

5- أكثر المناطق التي يشيع فيها تلوث الهواء تسمى المناطق الصناعية ص 61



(ب) صنف الكواكب الآتية حسب ما هو مطلوب منك في الجدول التالي :

(عطارد - نبتون - الزهره - المشتري) ص 19+20

الكواكب الخارجية (الغازية)	الكواكب الداخلية (الصخرية)
1- المشتري	1- الزهره
2- نبتون	2- عطارد

ج) نفذ ما هو مطلوب منك على خريطة العالم الصماء: ص 32



- ظلل القارة القطبية الجنوبية .
- المحيط الهادي يحمل الرقم (3)
- قارة استراليا تحمل الرقم (2)

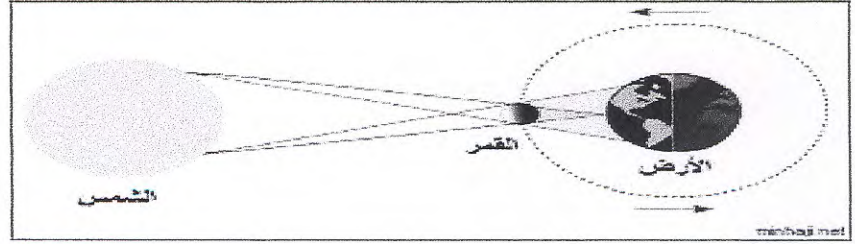


د) اكتب المصطلح العلمي الدال على العبارات التالية :

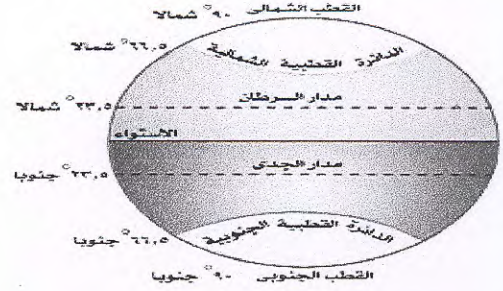
- 1- (النجم) كره غازية مضيئة وذات حرارة عالية تتلألأ في السماء . ص 16
- 2- (الجزر) انحسار مياه المحيطات و البحار عن الشواطئ . ص 30
- 3- (الصناعة) تحويل مواد خام من صورة إلى صورة أخرى يسهل استعمالها . ص 71
- 4- (العناصر الحية) العناصر السابقة لوجود الإنسان على سطح الأرض . ص 51



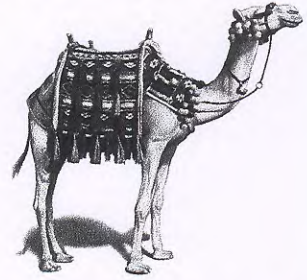
هـ) استعن بالرسوم التي امامك ثم اجب على الاسئلة التالية:-



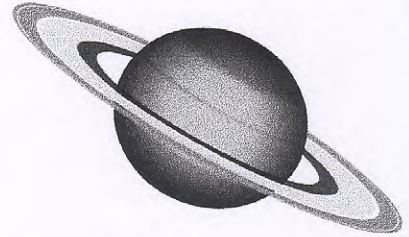
1- تمثل ظاهرة تسمى الكسوف ص 31



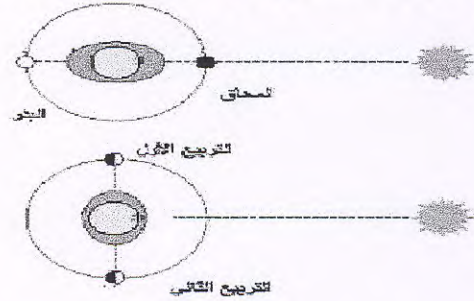
2- الشكل الذي امامك يوضح المناطق الحرارية ص 22



3- الحيوان الموضح بالصورة يعيش في اقليم يسمى اقليم الصحاري ص 39



4- هو الكوكب السادس من حيث البعد عن الشمس ويتميز بوجود حلقات حوله يسمى كوكب زحل ص 20

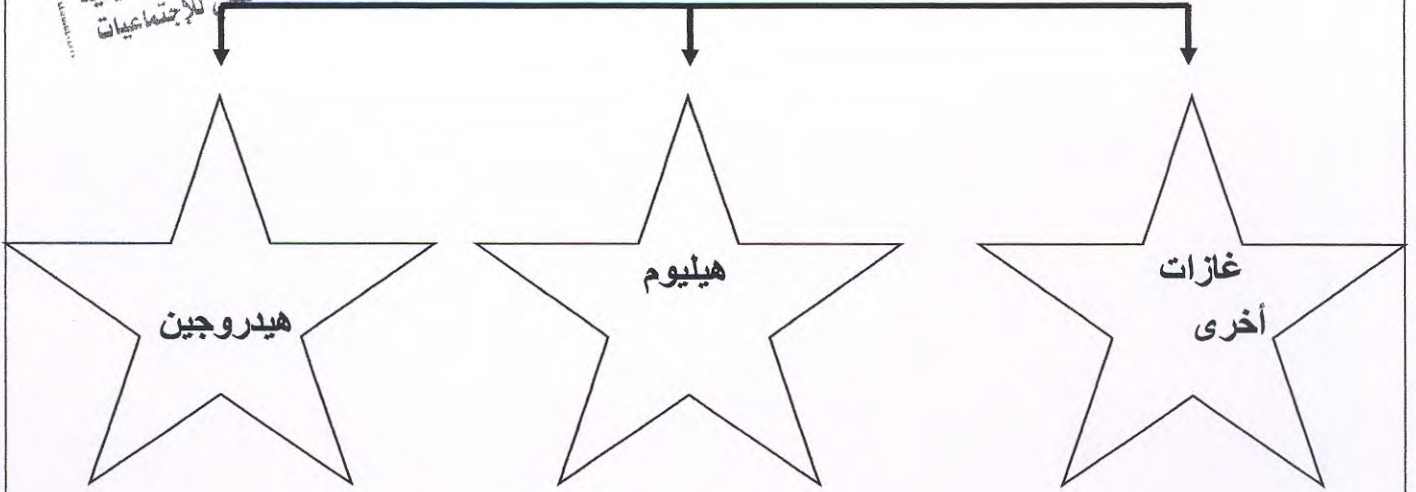


5- الرسم الذي امامك يمثل ظاهرة تسمى المد العالي والمد المنخفض ص 30

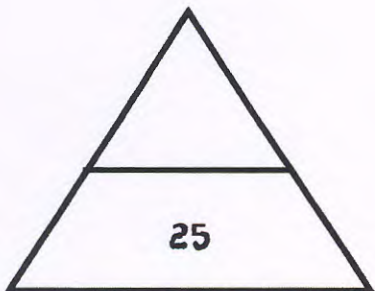

و) أكمل المخططات السهمية التالية :



1- عناصر الشمس ص 18



2- انواع البيئة الطبيعية من حيث التضاريس ص 52+53



4

درجة سؤال الأول (موضوعي) :

السؤال الثاني مقالى يتكون من (أ - ب - ج) :

أ) عرف المفاهيم التالية:

4

1- بيئة: الاطار الذي يعيش الانسان و يحصل فيه على مقومات حياته و يتفاعل فيها مع

عناصر البيئة الاخرى . ص 51

2- حضيض: اقرب نقطة الى الشمس تصل اليها الارض فى مدارها . ص 27

3- غلاف مائي : جميع أشكال وصور المياه على سطح الأرض و فى باطنها. ص 36

4- تلوث التربة : دخول مواد غريبة عبر مساماتها بشكل يؤدي لحدوث تغيرات فى الخواص الفيزيائية او الكيميائية او الحيوية للتربة خاصة التربة الزراعية. ص 64

ب) علل لما يأتى : (اذكر السبب)

1- تتميز الحيوانات فى إقليم الحشاش بقدرتها على الجري .

* حيث لا توجد أشجار كثيفة تعيق حركتها . ص 39

2- وجود الحياة على كوكب الأرض .

* لوجود الغلاف الجوى و الجاذبية الأرضية . ص 21

3- ظهور مشكلة التلوث البيئي .

* الانفجار السكانى 2- التصنيع و التمدن و التكنولوجيا ص 60

4- اختلاف الحرف و الأنشطة الاقتصادية بين دول العالم .

* لتنوع الموارد الطبيعية و اختلاف الظروف الحضارية و العلمية و التكنولوجية

بين دول العالم . ص 69

5- تنوع المحاصيل الزراعية فى العالم

* لتنوع الظروف الطبيعية و المناخية . ص 70

4

ج- اكتب اثنين فيما يلى :

1- مميزات القمر . ص 28

* كروي الشكل لا انتفاخ فيه و لا تفلطح . / قوة الجاذبية على سطحه صغيره تعادل سدس

الجاذبية الارضية . / يفتقر الغلاف الغازي فالمدى الحراري كبير جدا .

2- مقومات قيام الصناعة. ص 71

* توافر المواد الخام الاولية للصناعة / توفر رأس المال / وسائل النقل

توافر الطاقة اللازمة لتحريك الآلات و المعدات الصناعية / وفرة الايدي العاملة وجود

سوق لتسويق المنتجات الصناعية

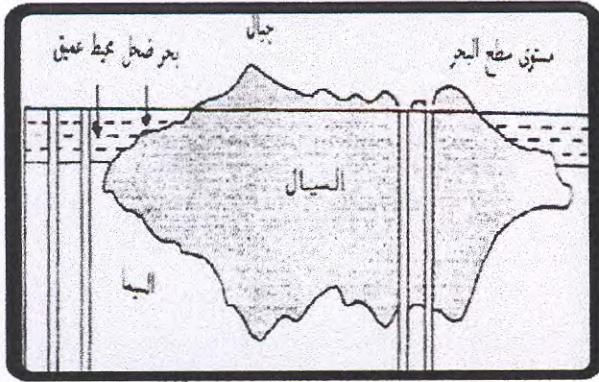
درجة السؤال الثاني

13

5

السؤال الثالث مقالى : نفذ ما هو مطلوب منك :

1- شاهد الصورة التي أمامك ثم استخرج طبقتي اليابس والماء و قم بتعريفهما ص 33 :



(السيل)

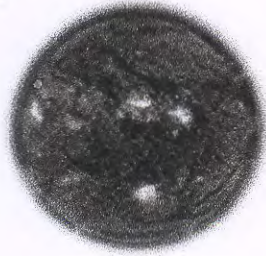
هي الصخور
المرتفعة الكثافة
وتتألف منها معظم
أرضيات المحيطات
و البحار

(السيل)

هي الصخور القليلة
الكثافة و تتألف
منها صخور
اليابس



2- حدد موقع القمر في حالة الخسوف . ص 31



الشمس



الأرض



القمر

3- شاهد الصورة المعروضة امامك ثم اكمل البطاقة التعريفية التالية: ص 63



1- نوع التلوث (المائي)

2- أسبابه :

1-مخلفات ناقلات النفط و السفن

التجارية .

2المجاري الصحية الغير المعالجة .


3مخلفات المصانع السائلة و

الصلبة التي تلقى في المسطحات

المائية .

السؤال الرابع مقالى ويتكون من (أ - ب)

(أ) فرق بين كلا من : ص 57



العناصر الحية المستهلكة و
التي تعتمد في غذائها على
غيرها من الكائنات الحية
(الانسان و الحيوانات)

مجموعة المستهلكات

العناصر الحية المنتجة النباتية و
سميت بالمنتجات لانها تصنع
غذائها بنفسها من المجموعة
الاساسية

مجموعة المنتجات

(ب) أمامك خريطة ذهنية لخطوط الطول أكمل الناقص فيما يلى : ص 23



درجة سؤال الرابع

انتهت الاسئلة ،،